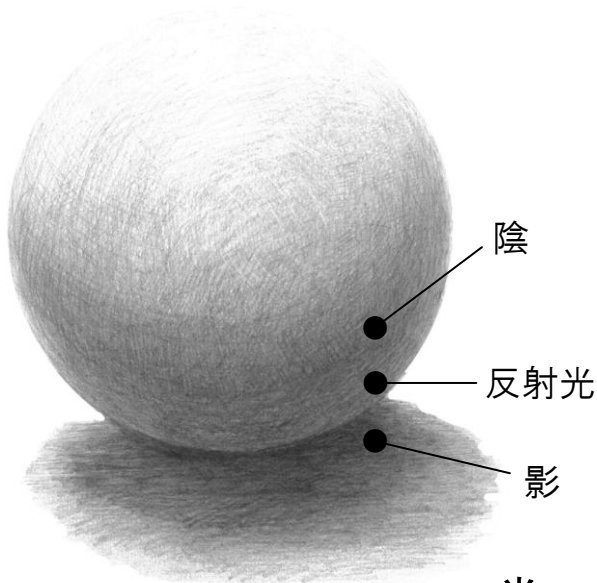



年	組	番
名		
前		

光
左斜め上からの光


- P.25「立体感を表す」を参考に、球体にそれぞれの方向から光が当たっていると、反対側の表面に「陰」、球体の置かれた面に「影」を描きましょう。(反射光も意識しましょう)



左真横からの光



右斜め上からの光



真上からの光

