

No.41

第2編第2章1 自然環境や災害・防災からみた日本

教科書 P.132～133

# 1 世界の地形

年 組 番

名 前

## 1 [変化に富む世界の山地] 次の問いに答えなさい。

(1) 太平洋を取りまく造山帯を何といますか。

( )

(2) (1)の造山帯に含まれる山脈を、次のア～エから二つ選び、記号で答えなさい。

ア ウラル山脈                      イ アンデス山脈

ウ アパラチア山脈                  エ ロッキー山脈

( ) ( )

(3) ユーラシア大陸の南部に東西につらなる造山帯を何といますか。

( )

(4) 造山帯の特色にあてはまるものを、次のア～エから二つ選び、記号で答えなさい。

ア 地盤が安定している              イ 地盤が不安定である

ウ 地震や火山が多い                エ 地震や火山がほとんどない

( ) ( )

## 2 [広大な平野と長大な川] 下の文の①～④にあてはまる語句を答えなさい。

安定大陸にあるなだらかになっている山地や、広大な平野は、( ① )や( ② )  
 によって地表がけずられ、なだらかになったところである。この広大な平野には長  
 大な河川が多く、長い距離を( ③ )に流れている。これらの川の流域面積は大変  
 ( ④ )になっている。

① ( )

② ( )

③ ( )

④ ( )

## ② 日本の地形

年 組 番

名 前

### ① 【けわしい日本の山地】 次の問いに答えなさい。

(1) 東北日本と西南日本では、およそどの方向に山地がつらなっていますか。それぞれあてはまる語句を答えなさい。

東北日本 ( ) の方向

西南日本 ( ) の方向

(2) 中部日本にある、3000m級の山々がならんだところを何とといいますか。6文字で答えなさい。

( )

(3) 日本の地形を東西に分ける、帯状に広がるみぞ状の地形を何とといいますか。

( )

(4) 西南日本を日本海側と太平洋側に分ける大きな断層のことを何とといいますか。

( )

### ② 【短い河川とせまい平野】 下の文の①・②にあてはまる語句を答えなさい。

河川が山地から平地に流れ出るところに土砂がたまり、ゆるやかな扇形の斜面になった地形を( ① )という。また、河川の河口部が土砂で埋め立てられてできた三角形のような地形のことを( ② )という。

① ( ) ② ( )

### ③ 【変化に富んだ日本の海岸】 【日本のまわりの海】 次の問いに答えなさい。

(1) 谷が海に沈んだ、のこぎりの歯のような海岸線をもつ海岸を何とといいますか。

( )

(2) 日本の近海を流れる暖流と寒流の名前を二つずつ答えなさい。

暖流 ( ) ( )

寒流 ( ) ( )

### ③ 世界の気候

年 組 番

名 前

1 【緯度・高度と気温】 下の①~④の文について、正しいければ○、まちがってれば×を記入しなさい。

- ① 気温は高緯度になるにつれて上がっていく。
- ② 緯度が同じところは同じ気候になる。
- ③ 気温は、標高が上がると下がっていく。
- ④ アフリカ州の高山にも雪が降る。

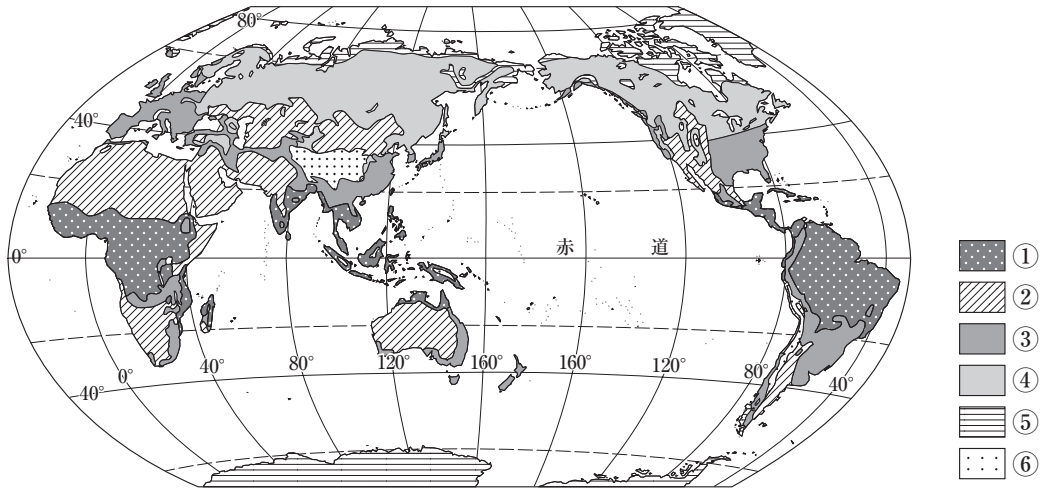
① ( ) ② ( ) ③ ( ) ④ ( )

2 【風と気候】 下の①・②の文にあてはまる風の名前を答えなさい。②はカタカナで答えなさい。

- ① 大陸西岸の中緯度地域で1年を通じてふくことが多い、西よりの風
- ② ユーラシア大陸の東岸から南岸地域でふく、季節によって風向きが変わる風

① ( ) ② ( )

3 【世界の気候区分】 下の地図中の①~⑥にあてはまる気候帯を、次のア~カから選び、記号で答えなさい。



- ア 寒帯気候      イ 温帯気候      ウ 冷帯(亜寒帯)気候
- エ 高山気候      オ 熱帯気候      カ 乾燥帯気候

① ( ) ② ( ) ③ ( )  
 ④ ( ) ⑤ ( ) ⑥ ( )

## 4 日本の気候

年 組 番

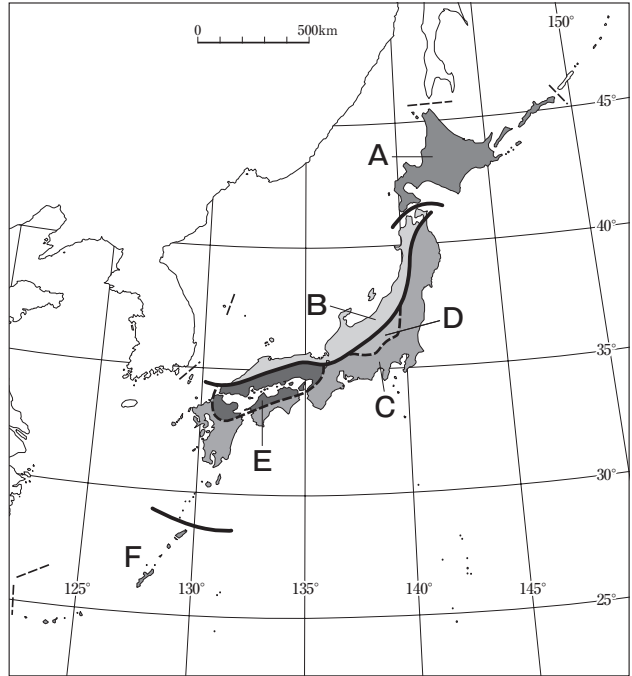
名 前

### 1 [日本の気候区分] 次の問いに答えなさい。

- (1) 右の地図中のA～Fにあてはまる気候区を、次のア～カから選び、記号で答えなさい。

- ア 日本海岸気候区  
 イ なんせいしょとう 南西諸島気候区  
 ウ ほっかいどう 北海道気候区  
 エ たいへいよう 太平洋岸気候区  
 オ 内陸性気候区  
 カ せとうち 瀬戸内気候区

- A (     ) B (     )  
 C (     ) D (     )  
 E (     ) F (     )



- (2) 下の文にあてはまる気候区を(1)のア～カから一つ選び、記号で答えなさい。

海からの水蒸気が届きにくいいため降水量が少なく、冬でも温和。 (     )

### 2 [冬から春の気候] 次の問いに答えなさい。

- (1) 日本で冬のあいだに季節風がふく方向を、次のア～エから一つ選び、記号で答えなさい。

ア 南東    イ 南西    ウ 北東    エ 北西 (     )

- (2) 日本の春の天気の特徴を、次のア～エから一つ選び、記号で答えなさい。

ア 晴れと雨の日が交互に続く    イ 雨の日が続く (     )  
 ウ くもりがちの日が続く        エ 晴れの日が続く (     )

### 3 [夏から秋の気候] 次の問いに答えなさい。

- (1) 夏の始まりにおよそ1か月間続く長雨を何といいますか。 (     )

- (2) 赤道近くの海で発生し、夏の終わりから秋にかけてたびたび日本に接近する熱帯性の低気圧を何といいますか。 (     )

## ⑤ 世界と日本の地震・火山災害

年 組 番

名 前

1 [自然災害と日本] 日本では、世界のなかでも、地震、津波、火山の噴火による自然災害が多くなっています。それはなぜですか。

( )

2 [地震や津波による災害] 次の問いに答えなさい。

(1) 地震の規模をあらわす値をカタカナで何といいますか。

( )

(2) 地震の発生した場所を何といいますか。

( )

(3) 下の①・②の震災の名前を答えなさい。

① 1995年、近畿地方で発生した内陸直下型の地震により起きた。

② 2011年に発生した、日本周辺では過去最大規模の地震で、巨大な津波により広い範囲が被災した。

① ( ) ② ( )

3 [火山の噴火による災害] [地震・津波が起きるしくみ] 次の問いに答えなさい。

(1) 下の①・②の被害をもたらした火山の名前を、次のア～エから選び、記号で答えなさい。

① ひんぱんに噴火をくり返し、鹿児島市にも火山灰を降らせることもある

② 2014年、噴火により大きな被害を出した

ア 磐梯山      イ 御嶽山

ウ 桜島      エ 雲仙岳

① ( ) ② ( )

(2) 世界に14～15枚ある、地球の表面をおおっている厚さ100kmほどの巨大な岩盤のことを何といいますか。

( )

(3) 下の文の( )に共通してあてはまる語句を答えなさい。

地殻変動のひとつで、岩盤に強い力が加わってずれ動いた場所のことを( )

といい、過去に地震をくり返し、今後も地震を引き起こす可能性のある( )

を活( )という。

( )

No. 46

第2編第2章1 自然環境や災害・防災からみた日本

教科書 P.142~143

## 6 世界と日本の気象災害

年 組 番

名 前

1 [洪水や土砂くずれなどの風水害] 次の問いに答えなさい。

(1) 特に台風の被害が多いのは、西日本、東日本のどちらですか。

( )

(2) 海水が、気圧の低下によってすい上げられたりすることで、海面(潮位)が上昇し、海水が陸上にあふれ出して、沿岸部の低地が浸水する災害を何といいますか。

( )

2 [さまざまな気象災害] [ヒートアイランド現象とゲリラ豪雨] 次の問いに答えなさい。

(1) 下の①~③の地域で発生しやすい自然災害を、次のア~ウからそれぞれ一つ選び、記号で答えなさい。

① 春から夏にかけての西日本      ② 東北地方の太平洋側

③ 本州から北海道の日本海側

ア 雪害    イ 冷害    ウ 干害

① ( )    ② ( )    ③ ( )

(2) ヒートアイランド現象について説明した下の文の( )のうち、正しい方の語句に○をつけなさい。

ヒートアイランド現象は、都市の気温分布が( 郊外から中心部・  
中心部から郊外 )に向けて気温が高くなる傾向がある。

3 [自然災害と人災] 人災とはどのような災害か、活動・拡大という語句を使って説明しなさい。

( )

**7 災害にそなえるために**

年 組 番

名 前

**1** 【防災と減災】 気象庁が発表する防災情報である下の①～③を何といいますか。

- ① 数十年に一度の暴風や大雨など、重大な災害の危険性がいちじるしく高まっているときに発表される。
- ② 重大な災害が発生するおそれがあるときに発表される。
- ③ 災害が発生するおそれがあるときに発表される。

① ( ) ② ( )  
③ ( )

**2** 【ふだんから住民や地域で行う防災】 【災害発生時と直後の防災】 次の問いに答えなさい。

(1) 自然災害が発生したとき、どこでどのような被害になるかを予測した地図を何といいますか。

( )

(2) 下の①・②で説明している内容にあてはまる語句を、次のア・イから選び、記号で答えなさい。

- ① 災害が発生したとき、自分や家族の命を守ること。
- ② 災害が発生したとき、地域社会の一員として地域の防災に役立つこと。

ア 自助    イ 共助

① ( ) ② ( )

(3) 公助にあてはまるものを次のア～エから一つ選び、記号で答えなさい。

- ア ふだんから訓練を重ね、災害に強い地域づくりをめざす
- イ いざというときに、どのように連絡を取り合うかを相談しておく
- ウ 被害者をすぐに助け、地域の安全をみんなで守る
- エ 防災や災害復旧のために、国・県・市町村などがさまざまな対策を行う

( )

# 1 世界の人口の分布と変化

年 組 番

名 前

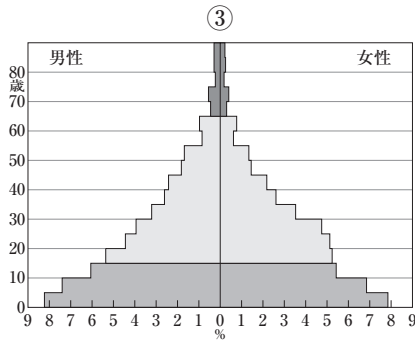
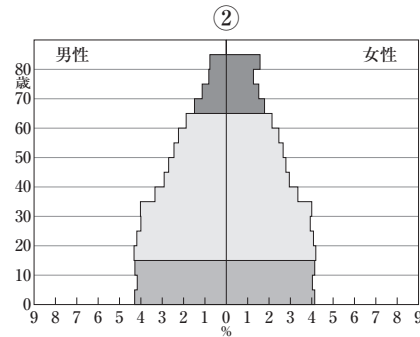
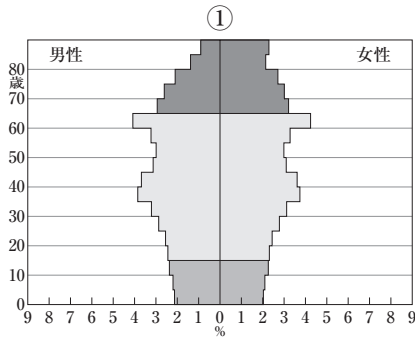
## 1 [世界の人口の分布] [人口ピラミッドの読み取り方] 次の問いに答えなさい。

(1) 世界の人口の分布について説明した下の文の①・②のうち、正しい方の語句に○をつけなさい。

人口密度の低い範囲はおおむね①（ 北半球・南半球 ）に集中しており、

②（ 温帯気候の平野部・熱帯気候や寒帯気候 ）では人口密度が高くなっている。

(2) 下の①～③のような人口ピラミッドの型を何とといいますか。



- ① ( )
- ② ( )
- ③ ( )

(3) 日本の現在の人口ピラミッドの型は(2)①～③のどれにあてはまるか、記号で答えなさい。 ( )

## 2 [世界の人口の変化] 次の問いに答えなさい。

(1) 世界の人口が急激に増加したことを何といいますか。 ( )

(2) 世界の人口の変化について説明した下の文の①・②のうち、正しい方の語句に○をつけなさい。

人口の増加が特にはげしいのは①（ 発展途上国・先進国 ）で、生活が豊か

になったことで、②（ 死亡率・出生率 ）が低下したことが影響している。



No. 49

第2編第2章2 人口からみた日本

教科書 P.152～153

## ② 日本の人口の分布と変化

年 組 番

名 前

## ① [日本の人口の分布] 次の問いに答えなさい。

- (1) 人口が特に集中している、太平洋ベルトが広がるのはどこからどこまでの地域ですか。次のア～エから選び、記号で答えなさい。

ア 東北地方から近畿地方    イ 東北地方から九州地方北部    (    )  
 ウ 関東地方から近畿地方    エ 関東地方から九州地方北部    (    )

- (2) 三大都市圏の名前を三つとも答えなさい。

(    ) (    )  
 (    )

- (3) 各地方の政治・経済・文化などの中心地となっている都市を何といますか。

(    )

- (4) 人口50万人以上で、政令によって指定された、県なみの行政ができる都市を何といますか。

(    )

## ② [過密化と過疎化] 次のア～エを、過密化・過疎化に分けて、二つずつ記号で答えなさい。

ア 産業がおとろえる    イ 土地が値上がりする  
 ウ 地域社会を支えるしくみが弱まる    エ 交通が混雑する

過密化 (    ) (    )    過疎化 (    ) (    )

## ③ [少子高齢化の進む日本] [人口減少社会をむかえて] 次の問いに答えなさい。

- (1) 少子高齢化は、過密地域、過疎地域のどちらの方が進んでいますか。

(    )

- (2) 日本の人口について説明した下の文の①・②のうち、正しい方の語句に○をつけなさい。

日本は① ( 1975年・2008年 ) をピークに人口が減少しはじめており、今後

② ( 人口増加に転ずる・人口減少が続く ) と考えられている。

No. 50

第2編第2章3 資源・エネルギーと産業からみた日本

教科書 P.154～155

## ① 世界と日本の資源・エネルギー

年 組 番

名前

① [かたよった鉱産資源<sup>しげん</sup>の分布] 次の問いに答えなさい。

- (1) 鉱産資源にはどのようなものがあるか、石油・石炭以外に二つ答えなさい。

( ) ( )

- (2) 下の文の①・②のうち、正しい方の語句に○をつけなさい。

日本は、鉱産資源の生産量が①( 多く・少なく )，

外国②( に多くの資源を輸出している・からの輸入にたよっている )。

② [なくなる資源] 次の問いに答えなさい。

- (1) ごみを資源として再利用することを何といいますか。

( )

- (2) (1)と、できるだけすてずにくり返し使うこと、ごみの発生そのものを減らすことの三つを、まとめて何といいますか。

( )

③ [日本のエネルギー消費と再生可能エネルギー] 次の問いに答えなさい。

- (1) 日本のエネルギー供給
- <sup>きょうきゅう</sup>
- に占める割合
- <sup>し</sup>
- が最も高いものを、次のア～エから選び、記号で答えなさい。

ア 石油 イ 水力 ウ 石炭 エ 原子力

( )

- (2) エネルギーに対する人々の意識が大きく変わるきっかけとなった、東日本大震災
- <sup>しん</sup>
- によって重大な事故が発生した発電所はどこですか。

( )

- (3) 下の文の①・②のうち、正しい方の語句に○をつけなさい。

再生可能エネルギーは、発電量が①( 多く・少なく )，発電コストが

②( 高い・安い )。

No.51

第2編第2章3 資源・エネルギーと産業からみた日本

教科書 P.158～159

## ② 世界と日本の第1次産業

年 組 番

名 前

1 [第1次産業とは] 第1次産業に含まれる業種を、次のア～ウから一つ選び、記号で答えなさい。

- ア 農業・林業・漁業      イ 鉱業や工業      (                      )  
ウ 商業やサービス業

2 [日本の農業の特色] 次の問いに答えなさい。

(1) より新鮮な状態のまま野菜，果物などを出荷できるように，都市の近くで行われるようになった園芸農業を何といいますか。 (                      )

(2) 温暖な気候を生かした園芸農業が盛んなところが多いのは東北日本，西南日本のどちらですか。 (                      )

(3) 園芸農業のうち，成長を遅らせる栽培を何といいますか。 (                      )

3 [日本の漁業・林業の特色] 次の問いに答えなさい。

(1) 魚介類を育てる漁業を何といいますか。 (                      )

(2) 稚魚や稚貝を放流し，育ってから漁獲する漁業を何といいますか。 (                      )

4 [農林水産業の課題と変化] 日本の農林水産業の課題と変化としてまちがっているものを，次のア～エから一つ選び，記号で答えなさい。

- ア 国際的にみて，日本の農林水産業は小規模で生産コストが高い。  
イ 企業などが，農地を借り，人を雇って農業に参入するための制度がある。  
ウ TPPに参加した場合の外国産の食料品の輸入減少が心配されている。  
エ 農作業や機械の購入を集落の農家が共同で行う取り組みが行われている。

(                      )



**4 世界と日本の第3次産業**

年 組 番

名 前

**1** 【第3次産業とは】 第3次産業に<sup>みく</sup>含まれる業種を、次のア～ウから一つ選び、記号で答えなさい。

- ア 農業・林業・漁業      イ 鉱業や工業      (                      )  
 ウ 商業やサービス業

**2** 【日本の商業の現状と変化】 下の文の①～④にあてはまる語句を、次のア～エから選び、記号で答えなさい。

- ・日本の各地には、たくさんの商店が集まった( ① )があったが、最近は、( ② )やコンビニエンスストアなどが多くなっている。
- ・( ③ )で買い物をするというスタイルにも変化がみられ、( ④ )が<sup>さか</sup>盛んになってきている。

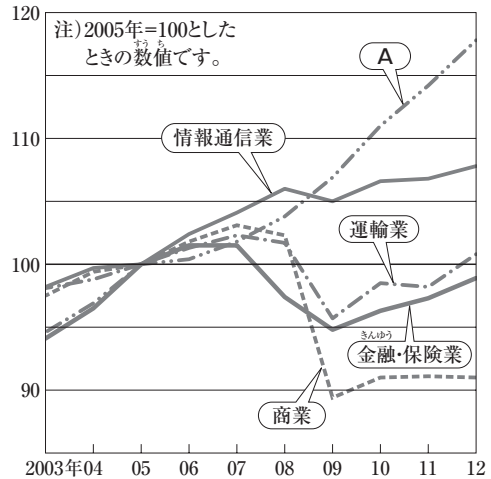
- ア 小売店      イ インターネットショッピング  
 ウ 商店街      エ ショッピングセンター

① (                      )      ② (                      )  
 ③ (                      )      ④ (                      )

**3** 【日本のサービス業の現状と変化】 次の問いに答えなさい。

(1) 右の第3次産業の規模<sup>きぼ</sup>の変化を示したグラフ中のAにあてはまるものを、次のア～エから選び、記号で答えなさい。

- ア 不動産業      イ 医療・福祉業  
 ウ 教育              エ 飲食業      (                      )



(2) 情報通信業で働く人のうち、およそ6割<sup>わり</sup>が集中している地方を、次のア～エから選び、記号で答えなさい。

- ア 東北地方      イ 関東地方      (                      )  
 ウ 近畿地方      エ 九州地方

# 1 世界各地の結びつき

年 組 番

名前

**1** [交通網・通信網の発達] 次の問いに答えなさい。

(1) 下の文の①・②にあてはまる語句を答えなさい。

明治時代初期にヨーロッパ州に行くには、( ① )を使って1か月以上かかったが、現在では( ② )を使えば10時間ほどで行くことができる。

① ( ) ② ( )

(2) 下の①・②にあてはまるものを、次のア～エからそれぞれ二つ選び、記号で答えなさい。

① 時間や費用など多くの制約がある通信手段

② だれでも遠くはなれた人々と交流したり、世界じゅうの情報を手に入れたりすることができる情報端末

ア 携帯電話    イ 手紙    ウ 電話    エ コンピューター

① ( ) ( ) ② ( ) ( )

(3) (2)②のような情報端末を使って、世界各地とのあいだで簡単にやり取りができるしくみに用いられている通信網をカタカナ7文字で何とといいますか。

( )

**2** [国際化の進む世界] [発展する貿易] 次の問いに答えなさい。

(1) コンテナ船やタンカーなどの貨物船を使った輸送を何とといいますか。

( )

(2) 航空機を使った輸送を何とといいますか。

( )

(3) 輸出よりも輸入が上まわることを何とといいますか。

( )

(4) 輸入よりも輸出が上まわることを何とといいますか。

( )

No. 55

第2編第2章4 結びつきからみた日本

教科書 P.166~167

## ② 日本の結びつき

年 組 番

名前

**1** 【日本国内の結びつきの変化】 下の①～③の文について、正しければ○、まちがっていれば×を記入しなさい。

- ① 原料輸送や製品出荷の便利さから、交通網が整備された場所に工場が移転したり、新しくつくられたりしている。
- ② 交通網の整備や高速化が進んで所要時間が短くなったことから、日本はせまくなったといえる。
- ③ 交通が便利になり、大都市から買い物に行きやすくなって、地方都市の商業が発展する現象が各地で起こっている。

① (            )    ② (            )    ③ (            )

**2** 【外国とのあいだの人の動き】 下の①～③の文について、正しければ○、まちがっていれば×を記入しなさい。

- ① 情報化が進んで世界じゅうの情報が手に入れやすくなったため、人々は仕事で国境をこえて移動することが少なくなっている。
- ② 外国へ出かける日本人は増えているが、日本をおとずれる外国人は減っている。
- ③ 現在では、外国に関する知識を学び、国際理解を深め合う努力が必要である。

① (            )    ② (            )    ③ (            )

**3** 【情報社会をむかえて】 【日本の貿易の特色】 次の問いに答えなさい。

(1) 下の文の①・②にあてはまる語句を答えなさい。

情報社会のなかで、( ① ) (IT)の進歩を生かして、( ② ) (ソーシャルネットワークワーキングサービス)など、各地の人々を結びつけるしくみが登場してきている。

① (            )

② (            )

(2) 輸入した資源などを使い、工業製品をつくって輸出する貿易を何といいますか。

(            )