

① 第一次世界大戦

年 組 番

名 前

① 【初めての世界大戦】 第一次世界大戦開戦時の各国の関係を示した下の図を見て、次の問いに答えなさい。

(1) 帝国主義政策を強硬におし進めたドイツが結んだ図中のAの同盟を何といますか。

()

(2) (1)に対抗した図中のBの同盟を何といますか。

()

(3) セルビアやボスニアなどがある、諸民族の対立による戦争がくりかえし起こっていたバルカン半島は、当時何とよばれていましたか。

()

(4) 第一次世界大戦は、1914年にある国の皇太子夫妻が暗殺されたことから始まりました。ある国にあてはまる国を、図中から一つ選んで答えなさい。

()

(5) 第一次世界大戦が始まったころは中立の立場をとっていたが、ドイツの潜水艦が中立国の艦船を攻撃するようになったことから、連合国側について参戦した国はどこですか。

()

② 【長引く戦争と総力戦】 【ロシア革命】 次の問いに答えなさい。

(1) 軍隊だけでなく、その国の政治や経済、そして国民の協力が重要な意味をもつ戦争のことを何といますか。

()

(2) 新兵器の登場によって、この戦争の犠牲者は、それまでの戦争をはるかにこえるものとなりました。これらの新兵器を二つ答えなさい。

() ()

(3) 長引く戦争で生活が苦しくなり、1917年に労働者や兵士が起こした革命を何といますか。

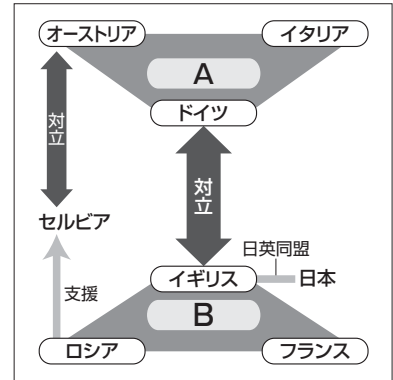
()

(4) (3)の革命を指導した人物はだれですか。

()

(5) (3)の革命の後、1922年に成立した国を何といますか。正式名称で答えなさい。

()



No.62

第5編第2章 二度の世界大戦と日本

教科書 P.210～211

② 日本の参戦と大戦景気

年 組 番

名 前

1 [日本の参戦と二十一か条の要求] [日本経済の飛躍] 次の問いに答えなさい。

(1) 日本が第一次世界大戦に参戦したのは、何という同盟を結んでいたからですか。

()

(2) 1915年に日本が中国に認めさせた下のような要求を何といますか。また、()にあてはまる国名を、次のア～エから一つ選び、記号で答えなさい。

- 一 中国政府は、()が山東省にもっているいっさいの権利を日本にゆずる。
 一 日本の旅順・大連の租借の期限、南満州鉄道の期限を99か年延長する。

ア イギリス イ アメリカ ウ イタリア エ ドイツ

要求 () 国 ()

(3) 第一次世界大戦中に日本経済は飛躍的に成長し、かつてない好景気となりました。この好景気を何といますか。

()

(4) (3)となった理由を簡単に説明しなさい。

()

(5) (3)により、にわか金持ちになった人々を何といますか。また、この時期に力を強めた三井、三菱、住友などを何といますか。それぞれ答えなさい。

() ()

2 [シベリア出兵と米騒動] 次の問いに答えなさい。

(1) ロシア革命が起こると、日本を含めた連合国は、革命を阻止するために軍隊を送りました。これを何といますか。

()

(2) (1)を見こした米の買い占めから米価が急上昇し、全国で米の安売りを求めて民衆が米屋などをおそう事件が起こりました。この事件を何といますか。

()

(3) (2)のあと、どのような内閣がたおれましたか。

()

No.63

第5編第2章 二度の世界大戦と日本

教科書 P.212～213

③ 大戦後の世界とアジアの民族運動

年 組 番

名 前

1 [ベルサイユ条約と国際連盟] 次の問いに答えなさい。

- (1) 第一次世界大戦でドイツが降伏した後、1919年に講和会議が開かれた都市はどこですか。 ()
- (2) (1)の会議で結ばれた、ドイツとの講和条約を何とといいますか。 ()
- (3) アメリカ大統領ウィルソンの提案により1920年に設立された、世界の平和を守る初めての国際機構を何とといいますか。 ()

2 [アジアの民族運動] [ワシントン会議と日本] 次の問いに答えなさい。

- (1) ウィルソンが第一次世界大戦の講和会議で提唱した、それぞれの民族は、自らのことを自らで決める権利があるとする考え方を何とといいますか。 ()
- (2) イギリスの植民地であったインドで、(1)の考え方にに基づき、自治を求める運動を指導したのはだれですか。 ()
- (3) 1919年に朝鮮で起こった、独立を求める運動は全国に拡大しました。この運動を何とといいますか。 ()
- (4) 二十一か条の要求の取り消しが講和会議で認められなかったことから、中国では全国で講和条約への反対運動が起こりました。この運動を何とといいますか。 ()
- (5) (4)のあと、このような民衆の力を革命に生かそうと中国国民党がつくられました。中国国民党をつくったのはだれですか。 ()
- (6) 1921年、アメリカのよびかけで開かれ、日英同盟の廃止や、中国の主権と領土を尊重することなどが決められた会議を何とといいますか。 ()

No.64

第5編第2章 二度の世界大戦と日本

教科書 P.214～215

1 政党政治の発展

年 組 番

名 前

1 【護憲運動と政党内閣】 次の問いに答えなさい。

- (1) 1912年に起こった、軍人や官僚中心の政治ではなく、議会中心の政治を求める運動を何といますか。 ()
- (2) 米騒動の責任をとって退陣した内閣のあとに成立した内閣は、初めての本格的な()内閣となりました。()にあてはまる語句を答えなさい。また、このときの首相はだれか答えなさい。
()内閣、()首相
- (3) 民本主義をとнаえて、(2)の内閣の確立を主張したのはだれですか。 ()

2 【普通選挙の実現】 【政党内閣と国際協調と軍備縮小】 次の問いに答えなさい。

- (1) 20歳以上の男女の普通選挙が認められた、1919年にドイツで制定された憲法を何といますか。 ()
- (2) 1925年、加藤高明内閣のときに成立した選挙法を何といますか。 ()
- (3) (2)の選挙法で選挙権をあたえられたのはどのような人々でしたか、次のア～エから一つ選び、記号で答えなさい。
ア 満20歳以上の男子 イ 満20歳以上の男女 ()
ウ 満25歳以上の男子 エ 満25歳以上の男女 ()
- (4) (2)と同時に制定された、共産主義運動の拡大をおさえるための法律を何といますか。 ()
- (5) 大正時代に広まった、民主主義を求める動きや風潮を何といますか。 ()
- (6) 1928年、戦争を違法とする国際条約が結ばれました。この条約を何といますか。 ()

No.65

第5編第2章 二度の世界大戦と日本

教科書 P.216～217

② 社会運動の広がり

年 組 番

名 前

① [立ち上がる労働者や農民] 次の問いに答えなさい。

- (1) 第一次世界大戦中からひんぱんに起こった、賃金ちんぎんの引き上げなどを求める運動を何といますか。 ()
- (2) (1)をうけて、1921年には全国規模きぼの労働組合がつくられました。これを何といますか。 ()
- (3) 農村で起こった、地主に対して小作料の減額などを求める運動を何といますか。 ()
- (4) (3)を支援しえんするため、1922年につくられた組織を何といますか。 ()
- (5) (1)や(3)が盛さかんになると、労働者や農民を基盤きばんとする、それまで結成を禁止されていた政党が政治活動せいとうを行うようになりました。このような政党を何といますか。 ()

② [差別からの解放を求めて] [社会運動への政府の対応] 次の問いに答えなさい。

- (1) 1920年に平塚ひらつからいてうや市川房枝(ちょう) いちかわふさえらがつくった、女性の政治活動の自由などを求める組織を何といますか。 ()
- (2) 1922年に、被差別部落ひの人々が、人間としての平等を求めて結成した組織を何といますか。 ()
- (3) 1930年に、差別に苦しむアイヌの人々が立ち上がり、結成した組織を何といますか。 ()
- (4) 政府が、社会運動全般ぜんぱんをとりしめるために用いるようになった法律ほうりつを何といますか。 ()

③ 都市化の進展と大衆文化

年 組 番

名 前

1 [都市的生活] 次の問いに答えなさい。

- (1) 大正時代の人々の生活・文化について、下の文の①～④にあてはまる語句を答えなさい。

- ・ (①) の人口が急増し、東京や大阪は数百万の人口が集中した。
- ・ (①)では電気・水道・ガスが普及して、生活様式の(②)化が進んだ。
- ・ 都心と近郊を結ぶ(③)が発達し、都心のターミナルにデパートができた。
- ・ 生活の便利さや文化面などで、(①)と農村の(④)が広がった。

① () ② ()
 ③ () ④ ()

- (2) 1923年に、東京・横浜などに壊滅的な被害をあたえた災害を何といますか。また、この混乱のなかで、井戸に毒を投げこんでいるといったデマを信じた日本人によって、多くの人が殺されました。犠牲になった人々はどこから来た人々かを答えなさい。

災害 () 人 ()

2 [文化の大衆化] 次の問いに答えなさい。

- (1) 大正時代には文化や娯楽、芸術の大衆化が進みました。大衆娯楽の代表的なもので、初めは無声で、やがて有声となったものは何ですか。

()

- (2) 1925年に開始され、野球中継などが楽しまれた放送は何ですか。

()

- (3) 上級学校への進学率が上昇したこともあり、100万部をこえる読者を得たメディアを二つ答えなさい。() ()

- (4) 文学書や学術書が大衆化するなか、『鼻』『羅生門』などの作品を書き、多くの読者を得た小説家はだれですか。

()

No.67

第5編第2章 二度の世界大戦と日本

教科書 P.222～223

① 世界恐慌と各国の対応

年 組 番

名 前

① [世界恐慌の衝撃] 次の問いに答えなさい。

(1) 1929年10月24日に株価が大暴落したのはどこの国ですか。

()

(2) (1)をきっかけに、世界に広まった経済危機を何といいますか。

()

(3) (2)の影響を受けなかった国はどこですか。

()

(4) 当時、(3)の国では、だれの独裁政権によって計画経済が進められていましたか。

()

② [ファシズムの台頭] [ニューディール政策とブロック経済政策] 次の問いに答えなさい。

(1) ドイツでナチ党を率いて独裁政治を行った人物はだれですか。

()

(2) イタリアでファシスト党を率いて独裁政治を行った人物はだれですか。

()

(3) 当時のドイツやイタリアのように、民主主義や自由主義を否定する軍国主義的な独裁政治を何といいますか。

()

(4) アメリカでは、大規模な公共事業がおこされ、景気の回復や失業者の救済政策が進められました。この政策を何といいますか。

()

(5) (4)の政策を進めた大統領はだれですか。

()

(6) イギリスやフランスがとった、植民地や従属国との貿易を拡大し、他国の商品には高い関税をかける政策を何といいますか。

()

② 日本の恐慌と東アジア情勢

年 組 番

名 前

1 [日本の恐慌] 次の問いに答えなさい。

- (1) 不景気が続く第一次世界大戦後の日本で、1927年に起こった多くの銀行が休業や倒産に追いこまれたできごとを何とといいますか。

()

- (2) 日本の農村の主要作物で、世界恐慌の影響を受けて価格が低迷した農作物は何ですか。二つ答えなさい。

() ()

- (3) 1931年に冷害で凶作となった地方を、次のア～エから一つ選び、記号で答えなさい。

ア 北海道 イ 東北地方 ウ 中部地方 エ 九州地方

()

- (4) 日本経済が落ちこむなか、労働者に対する解雇や賃金引き下げに反対して起こった運動を何とといいますか。

()

- (5) 農村で、土地の取り上げに反対して起こった運動を何とといいますか。

()

- (6) 政府は何という法律を改めて、最高刑を死刑とし、共産党を弾圧しましたか。

()

2 [統一を進める中国と日本の対応] [政党政治の危機] 次の問いに答えなさい。

- (1) 中国で、孫文の死後に国民党の指導者となり、国民政府を南京に移した人物はだれですか。

()

- (2) 満州におかれた日本軍で、1928年に満州に勢力をもつ軍閥を列車ごと爆殺した軍隊を何とといいますか。

()

- (3) 陸海軍の特にその中枢部にある幹部たちが、政党内閣や議会に対して、独自の政治勢力となっていました。これを何とといいますか。

()

No.69

第5編第2章 二度の世界大戦と日本

教科書 P.226～227

③ 日本の進路を変えた満州事変

年 組 番

名 前

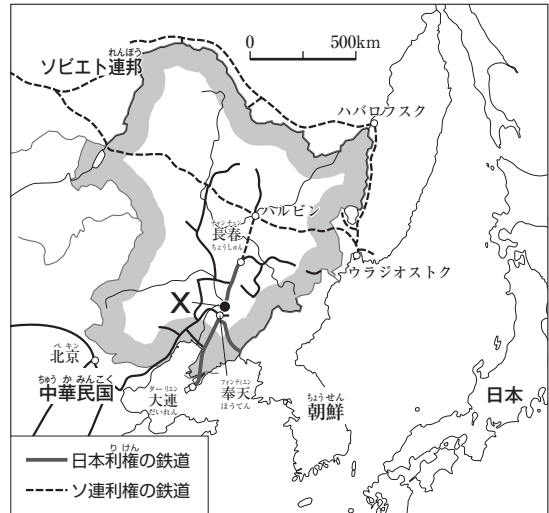
1 [満州事変] 次の問いに答えなさい。

- (1) 右の地図中のXで、1931年、関東軍が鉄道の線路を爆破する事件を起こしました。この鉄道を何といますか。

()

- (2) 関東軍は、(1)の事件を中国側の行動として出兵し、満州全土を支配しました。このできごとを何といますか。

()



- (3) 右上の地図中の [] で囲まれたところは、1932年に関東軍によってつくられた国です。この国を何といますか。

()

- (4) (3)の国を認めず、日本軍の引きあげなどを勧告した機関と、それに対する日本の対応を書きなさい。

機関 () 対応 ()

2 [強まる軍部の力] 次の問いに答えなさい。

- (1) 1932年、政治に不満をもった海軍の将校などに暗殺された首相はだれですか。

()

- (2) (1)の事件を何といますか。

()

- (3) 1936年、陸軍の青年将校が大臣などを殺害して、東京の中心部を占拠した事件を何といますか。

()

- (4) 政党内閣の時代が終わりを告げたのは、(2)・(3)のどちらの事件のときか、番号で答えなさい。

()

4 日中全面戦争と戦時体制

年 組 番

名前

1 【中国との全面戦争】 次の問いに答えなさい。

- (1) 中国の国民政府の蒋介石が共産党との内戦をくりひろげていたころ、共産党を率いていたのはだれですか。 ()
- (2) 1937年、北京郊外の盧溝橋で軍隊が衝突した後、宣戦布告のないまま、全面的な戦争が始まりました。この戦争を何といいますか。 ()
- (3) 日本軍は、12月には中国の首都を占領し、捕虜のほか、女性や子どもを含む多数の住民を殺害しました。この事件を何といいますか。 ()

2 【強まる戦時体制】 次の問いに答えなさい。

- (1) 1938年に制定された、資源や国民を議会の承認なしで戦争に動員できるようにした法律を何といいますか。 ()
- (2) 米、衣料品、砂糖、マッチなど生活に必要なものは、どのような形で国民にわたされるようになりましたか。二つ答えなさい。 () ()
- (3) 町や村のなかで10戸ほどで組織され、生活必需品の配給や防空訓練などの単位となった組織を何といいますか。 ()
- (4) 1940年、ほとんどの政党や政治団体が解散して、新たにまとめられた組織の名称を答えなさい。 ()
- (5) 1941年に小学校が何に改められて、軍国主義的な教育が強められましたか。 ()
- (6) 植民地の朝鮮で行った、住民を神社に参拝させたり、姓名を日本風に改めさせたりするような政策を総称して何といいますか。 ()

① 第二次世界大戦の始まり

年 組 番

名前

① [再び起きた世界大戦] [ドイツの^{せんりょうせいさく}占領政策] 次の問いに答えなさい。

(1) 1939年, ドイツは, 地図中のAの国と条約を結んだのちに地図中のBに侵攻しました。Aと結んだ条約名とBの国名をそれぞれ答えなさい。

条約名

()

国名

()

(2) (1)をきっかけに始まった戦争を何といますか。

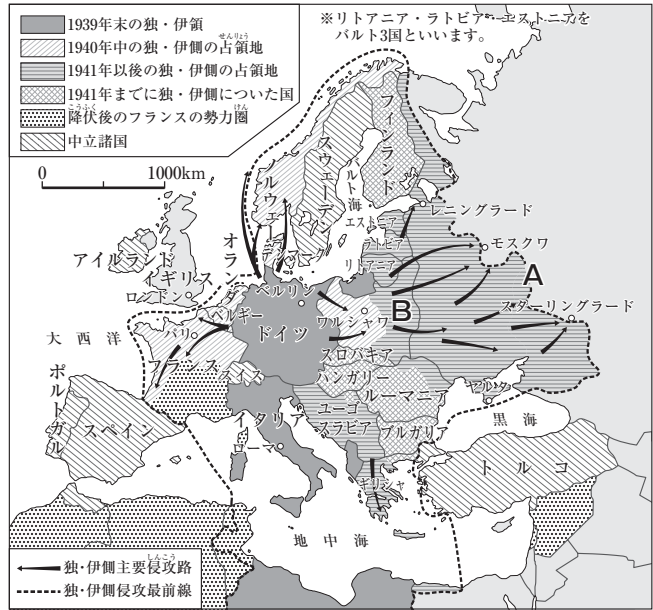
()

(3) (2)の戦争中, ドイツによって迫害され, 数百万の人が強制収容所^{しゅうようじょ}へ送られて殺害されたのは何とよばれた人々ですか。

()

(4) ドイツ占領下のヨーロッパ各地で起こった, ドイツの支配に対する抵抗運動^{ていこう}を何といますか。

()



② [枢軸国^{すうじくこく}と連合国] 次の問いに答えなさい。

(1) 1940年に結ばれた, 日本, ドイツ, イタリアの軍事同盟^{どうめい}を何といますか。

()

(2) (1)の3国は, 何とよばれましたか。

()

(3) (2)に対抗した陣営^{じんえい}の国々は, 何とよばれましたか。

()

No.72

第5編第2章 二度の世界大戦と日本

教科書 P.232～233

② アジア・太平洋での戦争

年 組 番

名前

① 【日本の南進】〔日米交渉の経緯〕 次の問いに答えなさい。

- (1) 日本は、アメリカなどが中国を援助するルートを断ち、資源を獲得するために、どこに進出しましたか。次のア～エから一つ選び、記号で答えなさい。

ア 南アジア イ 西アジア ウ 東南アジア エ アフリカ

()

- (2) 日本は(1)へ進出するため、北方の安全を確保しようとして、1941年にある条約を結びました。この条約を何とといいますか。

()

- (3) (1)に進出した日本を警戒して、日本に対して経済封鎖を行った国を二つ答えなさい。

() ()

- (4) アメリカが求める中国からの撤兵に反対し、その後アメリカとの開戦を決定した内閣の首相はだれですか。

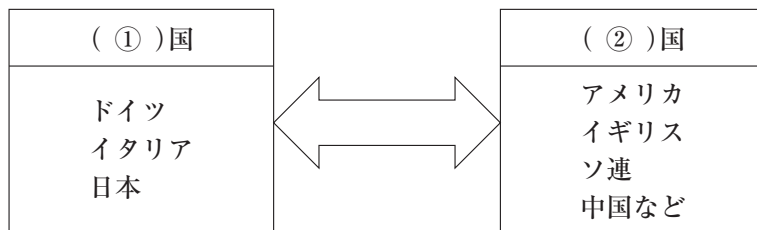
()

② 【太平洋戦争の始まり】 次の問いに答えなさい。

- (1) 1941年12月8日、日本がイギリス領マレー半島とともに、ハワイのアメリカ海軍基地を奇襲して始まった戦争を何とといいますか。

()

- (2) (1)の開始によって、第二次世界大戦はアジア・太平洋にまで拡大しました。この戦争の対立のようすを示した下の図の①・②にあてはまる語句を答えなさい。



① () ② ()

- (3) 日本は、東南アジアの人々に、欧米の支配を脱して日本の指導下で栄えようとする、何をつくろうと宣伝しましたか。

()

③ 戦時下の国民の生活

年 組 番

名 前

1 [苦しくなった国民生活] 次の問いに答えなさい。

(1) 連合国軍の反撃の始まりとなった、1942年6月の海戦名を答えなさい。

()

(2) 兵役が猶予されていた大学生も、兵力の不足を補うために、1943年には戦場へ送られました。これを何といいますか。

()

(3) 1944年の学徒勤労令で、強制的に就労させられたのはどの年齢以上の人々か、次のア～エから一つ選び、記号で答えなさい。

ア 小学生 イ 中学生 ウ 高校生 エ 大学生

()

(4) 日本国内で労働力が不足するなか、炭鉱や工場などのきびしい労働条件の職場で働かされたのは、どのような人々でしたか。

()

2 [本土空襲] [戦場となった沖縄] 次の問いに答えなさい。

(1) 1944年11月から、アメリカ軍の大型爆撃機によって、日本本土への空襲が始まりました。この攻撃について、次の問いに答えなさい。

① 空襲がはげしくなってきたため、大都市の国民学校の子どもたちは地方に避難しました。これを何といいますか。

()

② 1945年3月、焼夷弾による無差別爆撃を受け、一夜で約10万人が犠牲となった都市はどこですか。

()

(2) 1945年3月にアメリカ軍が上陸を開始し、さらに4月には本島に上陸して、住民をまきこむはげしい地上戦が起こった県はどこですか。

()

No.74

第5編第2章 二度の世界大戦と日本

教科書 P.236～237

④ 平和へのあゆみと戦争の傷あと

年 組 番

名 前

1 [イタリアとドイツの降伏] 次の問いに答えなさい。

(1) 連合国軍の反撃を受け、1943年9月に降伏した枢軸国はどこですか。

()

(2) 1945年5月に連合国軍に降伏した枢軸国はどこですか。

()

(3) 1945年7月の連合国側の会談によって、日本へ無条件降伏、民主主義の復活などを求める宣言がまとめられました。この宣言を何といいますか。

()

(4) (3)の宣言は、どこの国の名で発表されましたか、次のア～エから三つ選び、記号で答えなさい。

ア ソ連 イ アメリカ ウ イギリス エ 中国

() () ()

2 [ヒロシマとナガサキ] [日本の降伏] 次の問いに答えなさい。

(1) 1945年8月6日、アメリカによって広島に何が
投下され、多くの犠牲者が出ましたか。

()

(2) (1)がほぼ真上で爆発し、その被害のすさまじさをうかがうことができる建物が、現在世界遺産に登録されています。この建物を何といいますか。

()

(3) 広島に続いて、8月9日に(1)が投下された都市はどこですか。

()

(4) 約60万人の日本兵らが捕虜として抑留され、長期間、強制的に働かされ、多くの犠牲者を出したのはどこですか。

()

(5) 日本が降伏したことを昭和天皇がラジオ放送で国民に伝えたのはいつか、年月日を答えなさい。

()