

1 ともだち

なまえ _____
てん _____

① かずだけ ○に いろをぬりましょう。



① ○ ○ ○ ○ ○

② ○ ○ ○ ○ ○

③ ○ ○ ○ ○ ○

④ ○ ○ ○ ○ ○

② どの はこに いれと ちょうどはいりますか。せん で むすびましょう。

① ○

② ○ ○

③ おおい ほうに ○を つけましょう。

① ○

② ○

③ ○

④ ○

ふうせんは ならんで いる みんなに くばる ことができますか。

くばる ことが (できる・できない)。

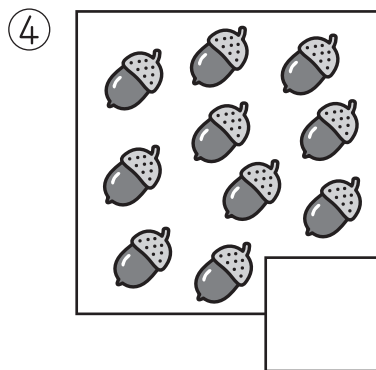


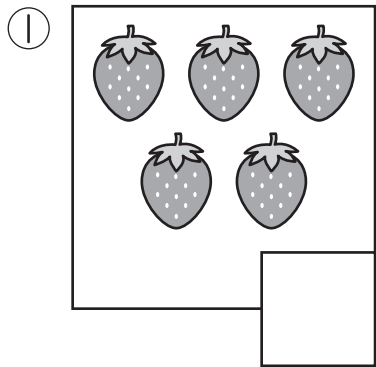
2

1 10までのかず

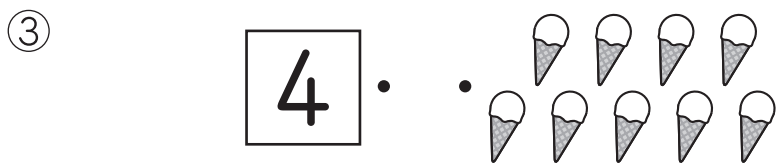
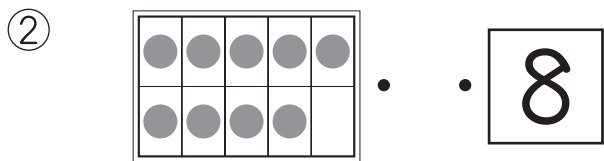
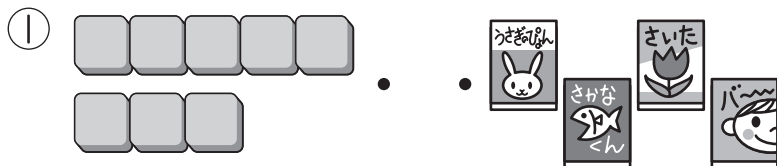
なまえ

てん



① かずを かぞえて すうじて かきましょう。



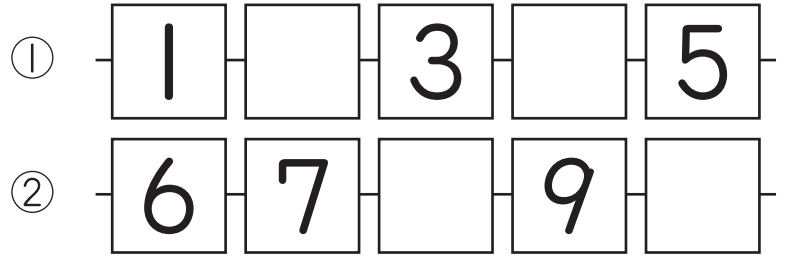
② おなじ かずを せんで むすびましょう。



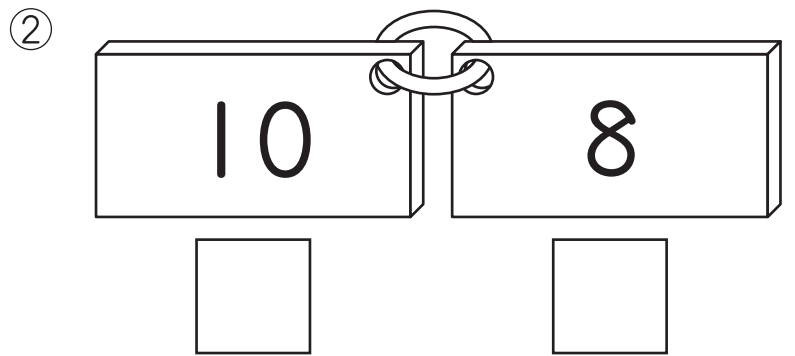

③ ペンギンの かずを すうじて かきましょう。



④ に かずを かきましょう。



⑤ おおい ほうに ○を つけましょう。




3

2 なんばんめ

なまえ

てん


① なんばんめですか。



- ① ぱんだは まえから ばんめ
- ② リスは うしろから ばんめ

② えをみて 答えましょう。

① うえから 2ばんめのくだものは なんですか。



② めろんは したからなんばんめですか。
 ばんめ

③ いろをぬりましょう。


① みぎから 2こ



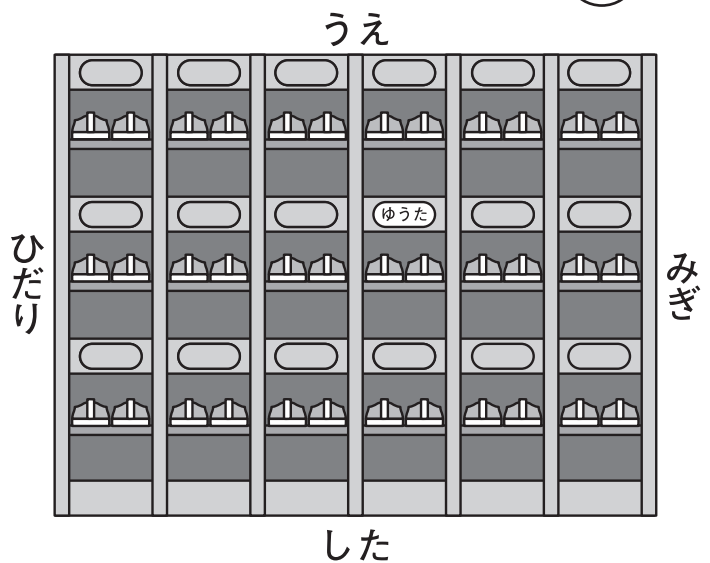
② みぎから 2ばんめ



④ まえから じゅんに、ひとりずつくるまにのります。ゆきさんがのるくるまを、○でかこみましょう。



ゆうたさんのくつばこをうえやした、みぎやひだりをつかってかきましょう。



(ゆうたさんのくつばこは)


4

3 いくつといくつ

なまえ

てん


① □に かずを かきましょう。



① 5は 1と □

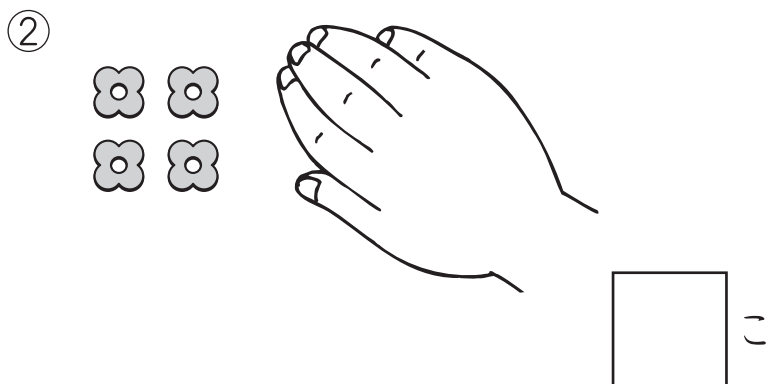
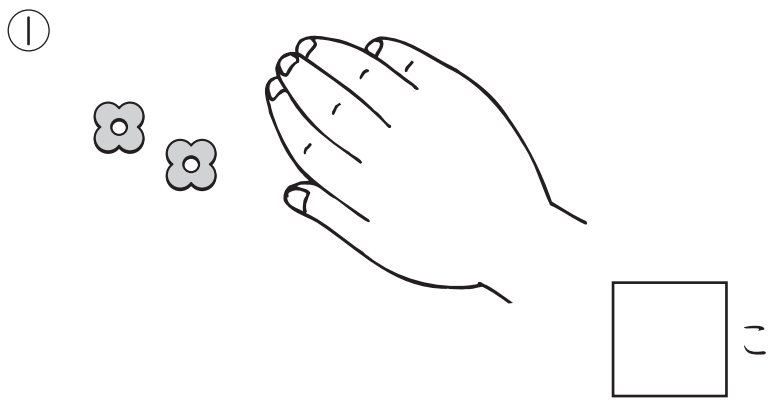


② 6は 4と □



③ 7は 2と □

② ♀を 8こ もって います。
かくした かずは なんこですか。



③ せんで むすんで 9に
しましょう。

①	②	③
8	3	4
.	.	.
.	.	.
5	1	6

④ 10は いくつと いくつですか。
□に かずを かきましょう。

①	②
10	10
6	9



2まいで 10に なる
かあどを みつけて
せんで かこみましょう。

5


4 あわせて いくつ
ふえると いくつ

なまえ

てん


① しきに かきましょう。

① あわせると なんびきに なりますか。



+ =

② ふえると なんわに なりますか。



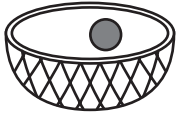
+ =

② たまいれをして、はいつた かずを
しきに かくと 0+3に なりました。
しきに あう えは、**あ**と **い**の
どちらですか。

あ 1かいめ



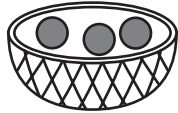
2かいめ



い 1かいめ



2かいめ



③ たしざんを しましょう。

① 2+2= ② 5+4=

③ 2+6= ④ 3+3=

⑤ 7+3= ⑥ 1+9=

⑦ 8+0= ⑧ 0+0=

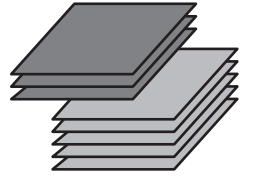
④ あかい いろがみが

3まい あります。

あおい いろがみが

5まい あります。

いろがみは、ぜんぶで なんまい
ありますか。



(しき)

こたえ

⑤ こどもが 6にん あそんで

いました。4にん きました。

こどもは、みんなで なんにん
になりましたか。



(しき)

こたえ



2+3=5に なる おはなしを
つくりましょう。



6

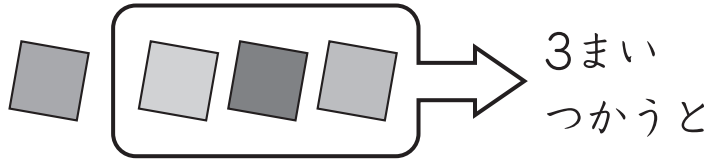
5 のこりは いくつ
ちがいは いくつ

なまえ

てん

① しきに かきましょう。

① のこりは なんまいに なりますか。



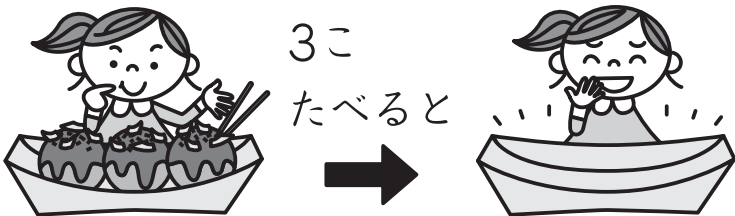
- =

② かずの ちがいは いくつですか。



- =

② のこりは なんこに なりますか。
しきと こたえを かきましょう。



(しき) - =

こたえ

③ ひきざんを しましょう。

① 5 - 3 = ② 7 - 2 =

③ 8 - 4 = ④ 6 - 5 =

⑤ 10 - 1 = ⑥ 10 - 6 =


⑦ 4 - 0 = ⑧ 0 - 0 =

④ ばすに 9にん のって いました。
ていりゅうじよで、3にん おりました。
ばすに なんにん のこって いますか。

(しき)

こたえ

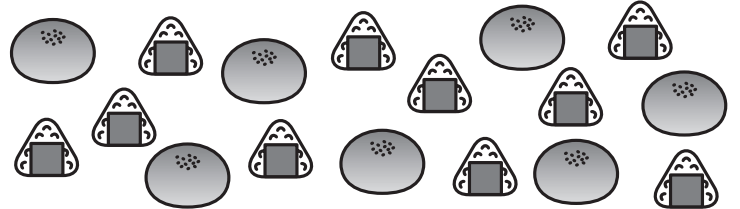
⑤ かぶとむしが 6ぴき います。
おすは 4ひきです。
めすは なんびきですか。



(しき)

こたえ

⑥ ぱんが 7こ、おにぎりが 10こ
あります。
どちらが なんこ おおいですか。



(しき)

こたえ が こ おおい。



9-8=1の しきに なる
おはなしを つくりましょう。


7

6 かずを せいりしよう

なまえ

てん

① さいた あさがおの かずだけ
いろを ぬりました。



げつようび	かようび	すいようび	もくようび	きんようび


① さいた はなの かずが いちばん
おいしいのは なんようびですか。

ようび

② さいた はなの かずが いちばん
すくないのは なんようびですか。

ようび

② くだものの かずを せいりします。

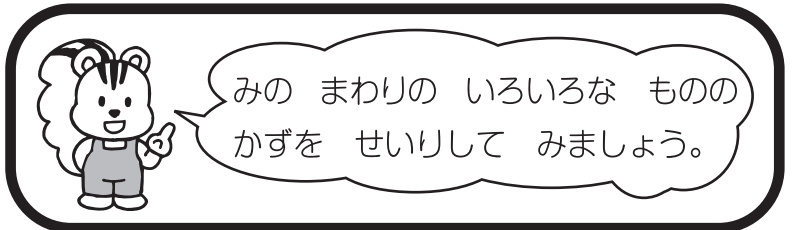


もも	ばなな	みかん	ぶどう

① くだものの かずだけ いろを
ぬりましょう。

② いちばん おおい くだものは
どれですか。

③ いちばん すくない くだものは
どれですか。






8

7 10より おおきい かず

なまえ

てん

1 かずを かぞえて すうじて かきましょう。



2 □に かずを かきましょう。

① 10と 4で □

② □と 7で 17

③ 12は 10と □

④ 20は □と 10

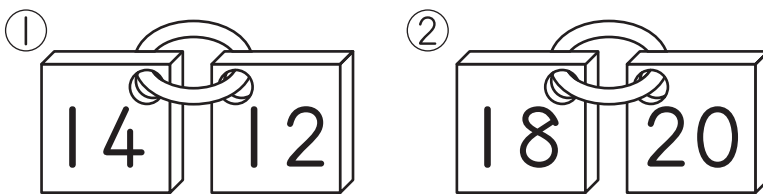
3 □に かずを かきましょう。

① 16 — 17 — □ — 19

② 14 — □ — 12 — 11

③ 5 — 10 — 15 — □

4 おおきい ほうに ○を つけましょう。



5 けいさんを しましょう。

① $10+8=$ □ ② $14+1=$ □

③ $16-6=$ □ ④ $17-5=$ □

6 あめを 15こ もって いました。 2こ たべました。

のこりは なんこに なりましたか。

(しき) □

こたえ □

 1から 20まで じゅんに せんで むすびましょう。




9


8 なんじ なんじはん


なまえ

てん


① とけいを よみましょう。


① 

② 


③ 


② ながい はりを かきましょう。


① 
7じ


② 
1じはん

③ かなたさんは がっこうに ついてから、いえに かえるまでに とけいを 4かい みました。
かなたさんが みた じゅんに 1, 2, 3, 4と ばんごうを かきましょう。

あ 

い 


う 


え 



㊦から ㊧の なかで、
11じはんの とけいは
どれですか。

か 

き 

く 

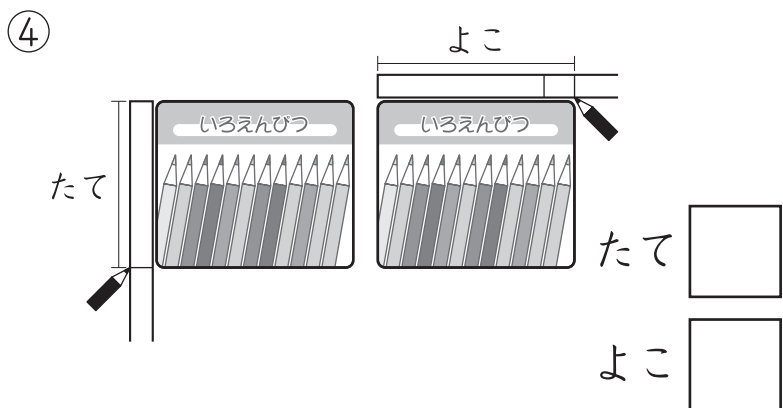
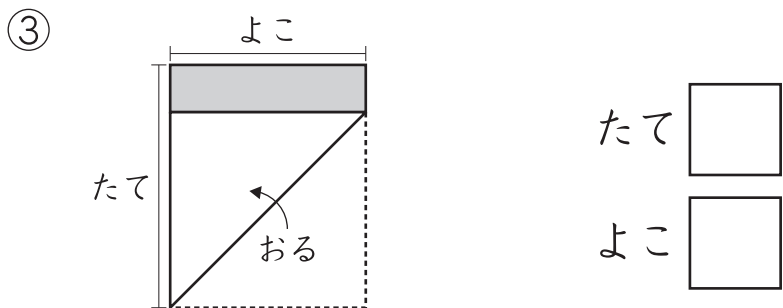
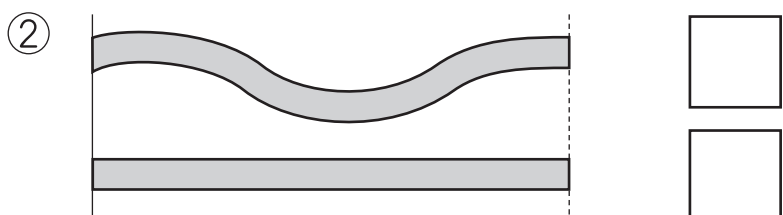
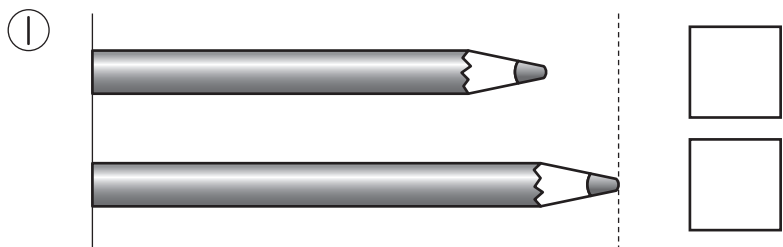
10

9 どちらがながい

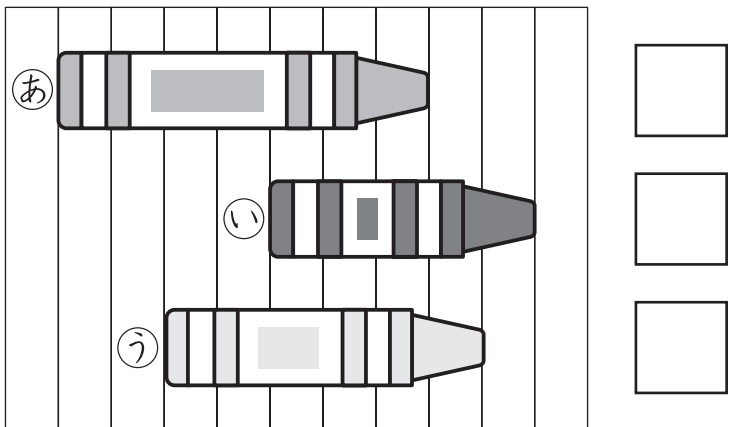
なまえ

てん

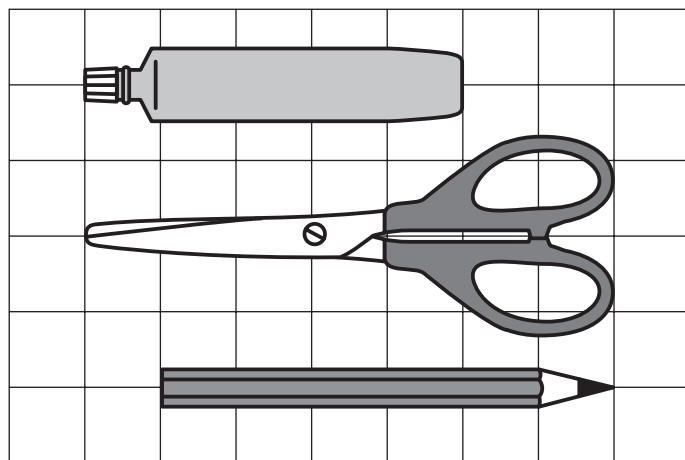
① ながい ほうに ○を つけましょう。



② ながい じゅんに 1, 2, 3と ばんごうを かきましょう。



③ のりと はさみと えんぴつの ながさを くらべます。



① それぞれ ますの いくつぶんの ながさですか。

のり... つぶん

はさみ... つぶん

えんぴつ... つぶん

② えんぴつと のりでは、どちらが どれだけ ながいですか。

が ますの つぶん ながい。




かなさんと りくさんが ゆびを つかって つくえの ながさを しらべました。 こたえが ちがう わけを、 じぶんの ことばで かきましょう。

6つぶん です。

かなさん

りくさん



5つぶん です。

11


10 ふえたり へったり

なまえ


てん

① バスに なんにん のって いますか。
しきに かきましょう。


3にん
のって
います。



4にん
のります。



ひとり
おりました。



+ - =

② けいさんを しましょう。

① 2 + 3 + 4 =

② 9 + 1 + 3 =

③ 6 - 3 - 1 =

④ 17 - 7 - 5 =

⑤ 1 + 4 - 2 =

⑥ 6 + 4 - 2 =

⑦ 8 - 6 + 5 =

⑧ 10 - 6 + 2 =

③ したの もんだいを しきに かくと、
あ、い、うの どの しきに なりますか。

① グミが 7こ ありました。
3こ たべました。
2こ たべました。

② はとが 7わ いました。
3わ とんで いきました。
2わ とんで きました。

あ 7+3-2 い 7-3+2 う 7-3-2

④ ジュースが 10ぽん ありました。
3ぽん のみました。
4ぽん のみました。
ジュースは なんぽんに なりましたか。




(しき)

こたえ



○に +か -を かいて
しきを つくりましょう。



4 ○ 3 ○ 5 = 2