

1


にゅうがく おめでとう


なまえ


てん


1 かずだけ ○に いろをぬりましょう。




①  ○ ○ ○ ○


②  ○ ○ ○ ○

③  ○ ○ ○ ○


④  ○ ○ ○ ○


2 ひとりに ひとつずつ あれば ○を、なければ ×を かきましょう。


① 

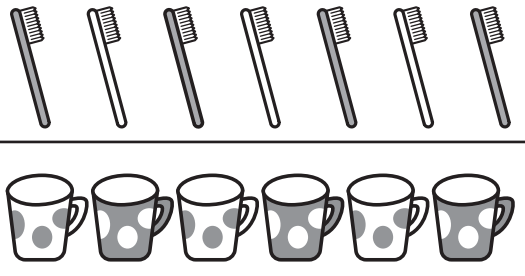
② 


3 おおい ほうに ○を かきましょう。

① 

② 

③ 

④ 




ふうせんを ならんで いる みんなに くばる ことができますか。


くばる ことが (できる・できない)。


2 1 10までの かず

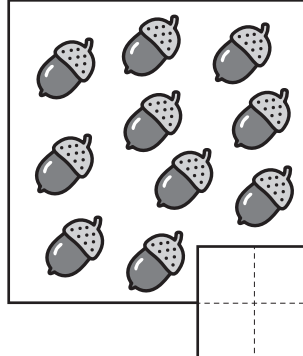
なまえ _____ てん _____

1 かずを かぞえて すうじで かきましょう。


① 


② 

③ 

④ 

2 ペンギンの かずを すうじで かきましょう。

① 

② 

3 に かずを かきましょう。


① | |


② | 9 | 10 |

③ 6 | 5 |



④ | 8 | 7 |



4 おおい ほうに ○を かきましょう。

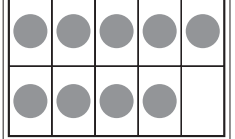
① 


② 

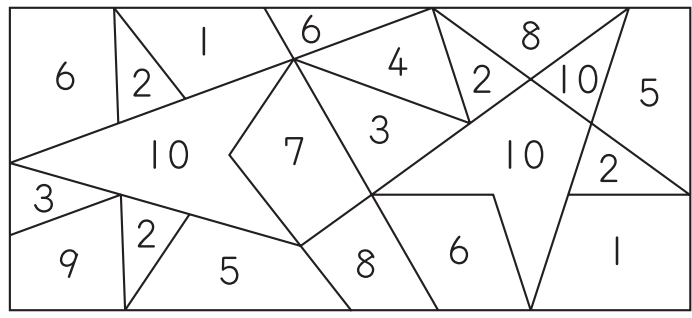
5 おなじ かずを せん で むすびましょう。

①  

②  

③ 6 

 2と10のところにいろをぬりましょう。



3 2 なんばんめ

なまえ

てん

1 せんで かこみましょう。

① みぎから 2こ

ひだり

みぎ




② みぎから 2ばんめ

ひだり

みぎ



2 なんばんめですか。



① ぱんだは まえから ばんめ。

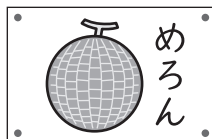
② りすは うしろから ばんめ。

3 えをみて こたえましょう。

① ぶどうは うえから
なんばんめですか。

ばんめ



うえ



② ぶどうは したから
なんばんめですか。


ばんめ

した



した

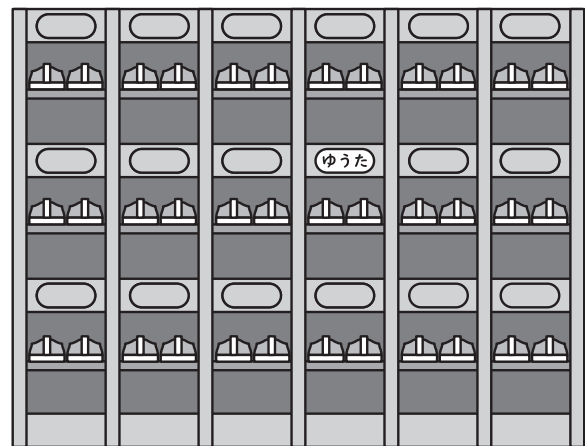
4 まえから じゆんに ひとりずつ
くるまに のります。ゆきさんが のる
くるまを、せんで かこみましょう。



ゆうたさんの くつばこを
うえや した、みぎや ひだりを
つかって かきましょう。

うえ

ひだり



みぎ

した

(ゆうたさんの くつばこは、)

4


3 いくつと いくつ

なまえ

てん

1 に かずを かきましょう。

① 5は 1と



② 6は 4と



③ 7は 2と




④ 8は 5と





2 を 9こ もって います。
かくした かずは なんこですか。

①

 こ

②

 こ

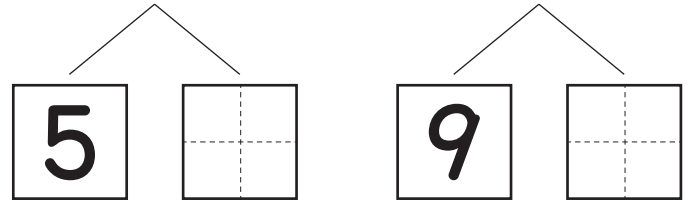
3 10は いくつと いくつですか。

①

10


②

10

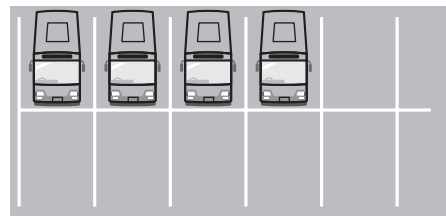


4 あと いくつで 10に なりますか。


① おかしが 7こ



② ばすが 4だい



2まいで 10に なる
かあどを みつけて
せんで かこみましょう。



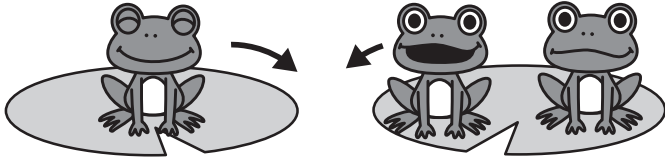
5 **4** あわせて いくつ ふえると いくつ

なまえ

てん


1 しきに かきましょう。

① あわせると なんびきに なりますか。



+ =

② ふえると なんこに なりますか。

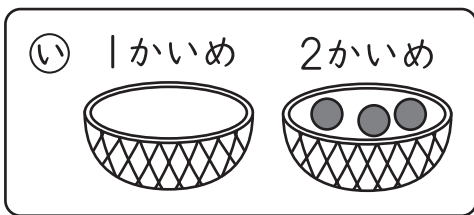
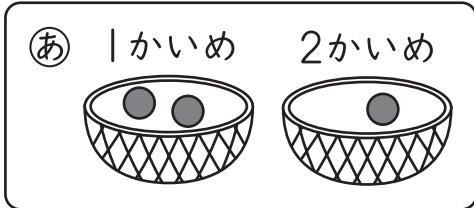


+ = 2こ もらうと

2 たまいれを 2かい しました。

はいつた かずを しきに かくと 0+3に なりました。

しきに あう えは、**あ**と **い**の どちらですか。



3 たしざんを しましょう。

- ① 4 + 1 =
- ② 1 + 5 =
- ③ 6 + 2 =
- ④ 3 + 4 =
- ⑤ 9 + 1 =
- ⑥ 2 + 8 =
- ⑦ 7 + 0 =
- ⑧ 0 + 0 =

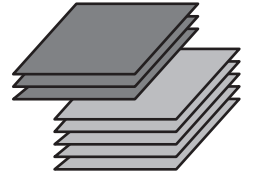
4 あかい いろがみが

3まい あります。

あおい いろがみが

5まい あります。

いろがみは、ぜんぶで なんまい ありますか。



(しき)

こたえ

5 こどもが 3にん あそんで

いました。6にん きました。

こどもは、みんなで なんにんに なりましたか。



(しき)

こたえ

2+3=5の しきに なる おはなしを つくりましょう。

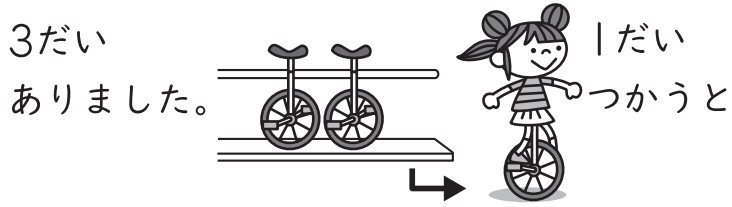
6 **5** のこりは いくつ
ちがいは いくつ

なまえ _____

てん _____


1 しきに かきましょう。

① のこりは なんだいに なりますか。



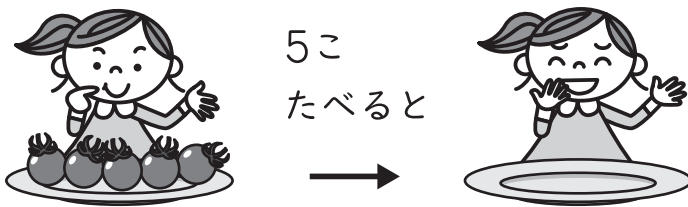
- =

② かずの ちがいは いくつですか。



- =

2 のこりは なんこに なりますか。
しきと こたえを かきましょう。



(しき) - =

こたえ


3 ひきざんを しましょう。

- ① 5 - 4 =
- ② 8 - 2 =
- ③ 7 - 2 =
- ④ 9 - 3 =
- ⑤ 10 - 1 =
- ⑥ 6 - 6 =
- ⑦ 4 - 0 =
- ⑧ 0 - 0 =

4 かぶとむしが 6ぴき います。

おすは 4ひきです。

めすは なんびきですか。

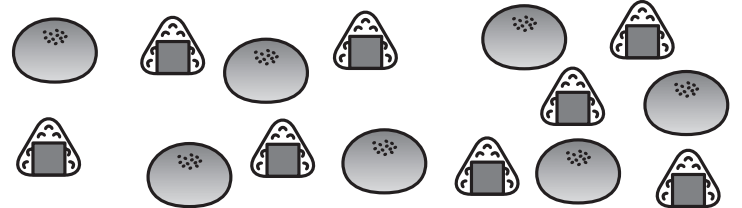


(しき)

こたえ

5 ぱんが 7こ、おにぎりが 8こ あります。

どちらが なんこ おおいですか。




(しき)

こたえ が こ おおい。



4 - 3 = 1 の しき に なる
おはなしを つくりましょう。




7

6 かずを せいりしよう

なまえ

てん

① くだものの かずを せいりします。



① くだものの かずだけ いろをぬりましょう。

もも	ばなな	みかん	ぶどう

② いちばん おおい くだものはどれですか。

③ いちばん すくない くだものはどれですか。

② どうぶつの かずを せいりすると、したのようになりしました。

うさぎ	いぬ	ねこ	りす

① かずが おなじ どうぶつはどれと どれですか。

 と

② いぬと ねこは、どちらがなんびき おおいですか。

 が ひき おおい。
 

ゆりあさんは、
2で、2ばんめに おおい
 どうぶつを かって います。
 ゆりあさんの
 かって いる どうぶつは
 どれですか。


8


7 10より おおきい かず


なまえ

てん

1 かずを かぞえて すうじで かきましょう。

① 

② 

③ 

2 に かずを かきましょう。

- ① 10と 4で
- ② 12は 10と
- ③ 20は と 10

3 に かずを かきましょう。

① 16 — 17 — — 19

② 15 — — 13 — 12

③ 14 — 16 — — 20

④ 5 — 10 — 15 —

4 おおきい ほうに ○を つけましょう。

① 14 12 ② 18 20


5 けいさんを しましょう。

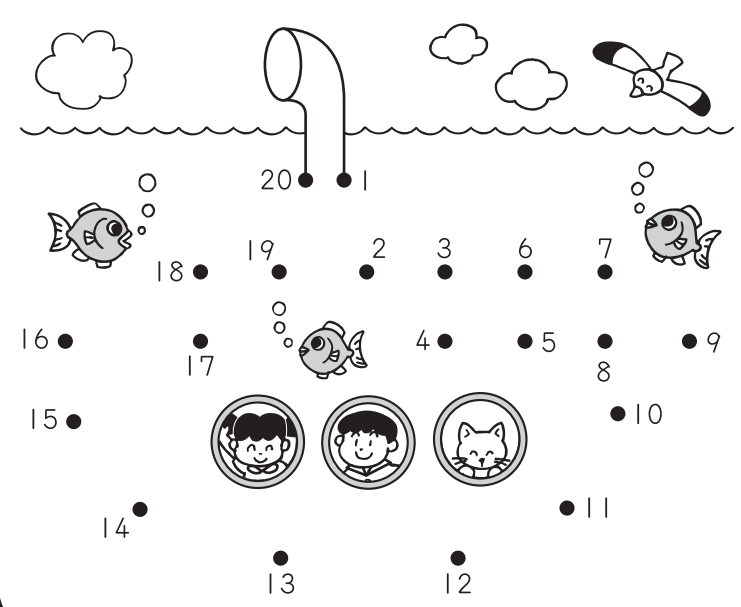
- ① $10+8=$ ② $16-6=$
- ③ $14+1=$ ④ $17-5=$

6 シールを 15まい もって いました。2まい あげました。 のこりは なんまいに なりましたか。

(しき)

こたえ

 1から 20まで じゅんに せんで おすびましょう。



9

8 なんじ なんじはん

なまえ

てん

1 とけいを よみましょう。

①



②



③



2 ながい はりを かきましょう。

①



7じ

②



1じはん


3 ただしい とけいは、どちらですか。

○を かきましょう。


① 4じはん



② 12じはん



かなたさんは
どうぶつえんに ついてから
いえに かえるまで、
とけいを 3かい みました。
かなたさんが みた とけいの
じゅんに 1、2、3の
すうじを かきましょう。

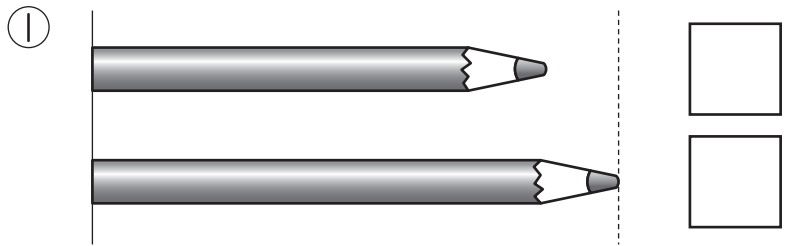


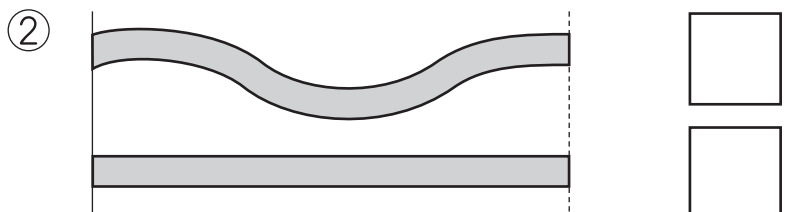
10 < 9 どちらがながい

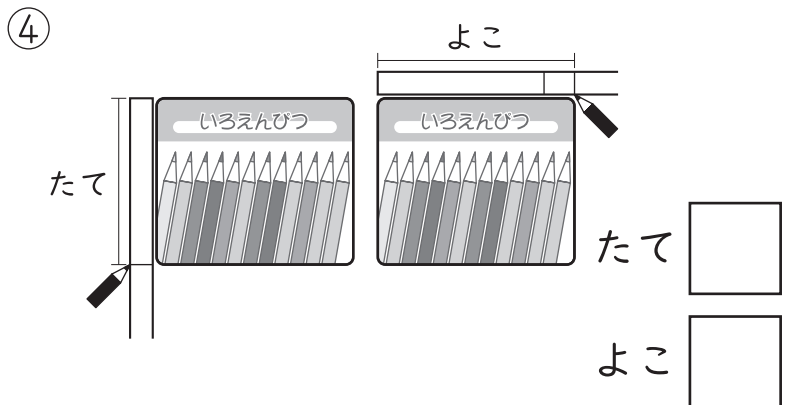
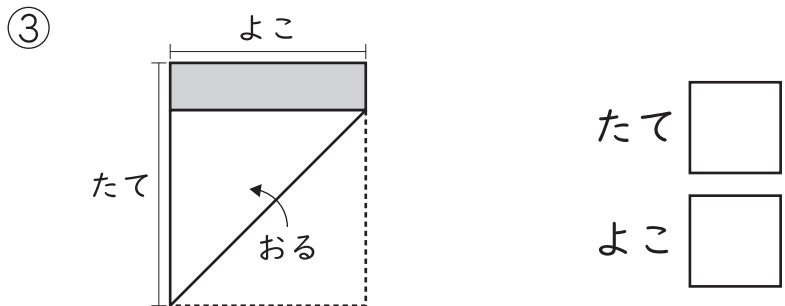
なまえ

てん


1 ながい ほうに ○を かきましょう。






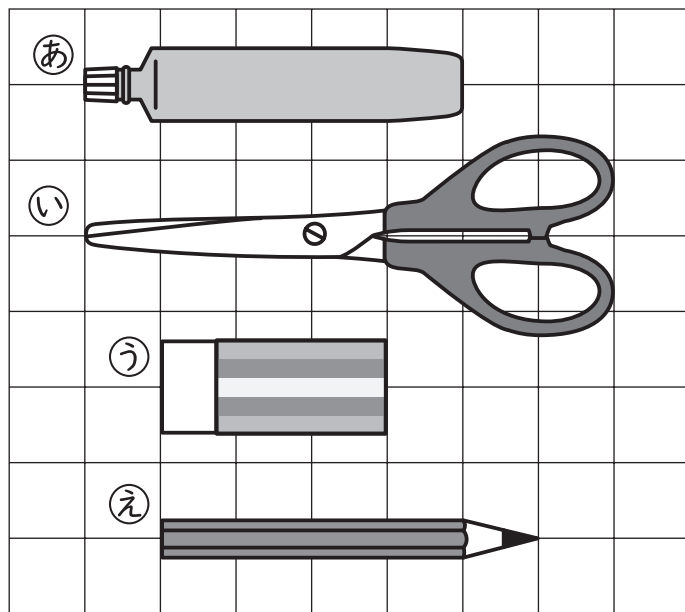


2 ながい ほうに ○を かきましょう。





3 ますの いくつぶん で ながさを くらべます。



① (a) と おなじ ながさの ものは どれですか。

② (i) と (u) では、どちらが どれだけ ながいですか。
 が ますの ぶん ながい。



かなさんと りくさんが ゆびの あいだを つかって つくえの ながさを しらべました。こたえが ちがう わけを、じぶんの ことばで かきましょう。

6ぶん かなさん
です。

りくさん

5ぶん りくさん
です。






11 10 ふえたり へったり

なまえ

てん

1 バスに のって いるのは、
なんにんに なりましたか。
しきに かきましょう。



$$\square + \square - \square = \square$$

2 けいさんを しましょう。

① $2 + 3 + 4 = \square$

② $9 + 1 + 3 = \square$

③ $6 - 3 - 1 = \square$

④ $17 - 7 - 5 = \square$

⑤ $1 + 4 - 2 = \square$

⑥ $6 + 4 - 7 = \square$

⑦ $8 - 6 + 5 = \square$

⑧ $10 - 6 + 4 = \square$

3 つぎの しきに なる もんだいを
あから うの なかから
えらびましょう。

① $7 - 3 + 2$

② $7 - 3 - 2$

あ グミが 7こ ありました。
3こ たべました。
2こ たべました。

い あかい つみきが 7こ、
あおい つみきが 3こ、
しろい つみきが 2こ あります。

う はとが 7わ いました。
3わ とんで いました。
2わ とんで きました。

4 ジュースが 10ぽん ありました。
3ぽん のみました。4ほん のみました。
ジュースは なんぽんに なりましたか。

(しき)

こたえ



○に +か -を かいて、
こたえが 2に なる
しきを つくりましょう。

$$4 \bigcirc 3 \bigcirc 5 = 2$$